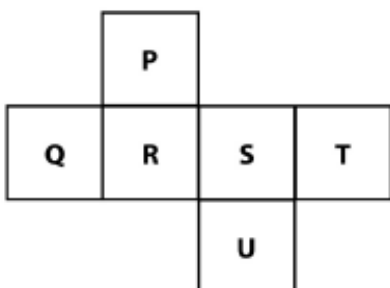


Αποδεδειγμένα Έργα Αξιολόγησης Μαθηματικών Β΄ Γυμνασίου

Έτος: 2015

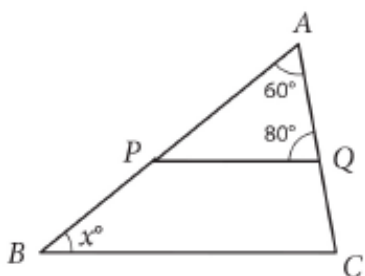
Ενότητα: Γεωμετρία

---




Η Λίζα κατασκεύασε ένα κύβο διπλώνοντας το πιο πάνω σχήμα. Ποια έδρα του κύβου είναι απέναντι από την έδρα Q ;

- (A) P
- (B) S
- (C) T
- (D) U



Οι ευθείες PQ και BC είναι παράλληλες. Ποια είναι η τιμή του x ;

Απάντηση: \_\_\_\_\_



Το ABCD είναι τραπέζιο με  $AB=10\text{cm}$  and  $CD=16\text{cm}$ .  $AD=BC$ . Η απόσταση μεταξύ των παράλληλων τμημάτων,  $AB$  και  $CD$ , είναι  $4\text{cm}$ . Ποια είναι η περίμετρος του;

- Ⓐ  $36\text{ cm}$
- Ⓑ  $34\text{ cm}$
- Ⓒ  $32\text{ cm}$
- Ⓓ  $30\text{ cm}$