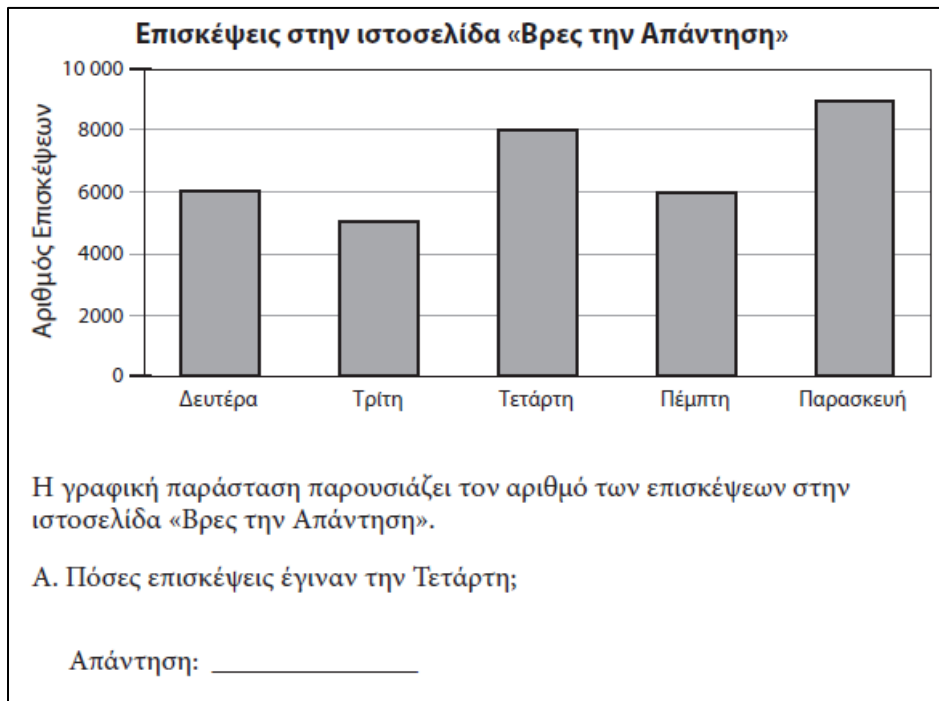


Παρουσίαση δεδομένων



Στον πιο κάτω πίνακα παρουσιάζονται τα μεγέθη μεγάλων φιδιών.

Είδος Φιδιού	Βάρος (κιλά)	Μήκος (μέτρα)
Βόας Συσφιγκτήρας	27	4
Πύθωνας Βιρμανίας	90	5 με 7
Πράσινο Ανακόντα	227	6 με 9
Βασιλική Κόμπρα	9	4

A. Ο Νίκος είδε ένα φίδι που είχε μήκος 8 μέτρα. Ποιο είδος φιδιού μπορεί να ήταν;

Απάντηση: _____

B. Η Νίκη είδε ένα φίδι που είχε μήκος 6 μέτρα και ζύγιζε περίπου 80 κιλά. Ποιο είδος φιδιού μπορεί να ήταν;

Απάντηση: _____

Ο κ. Δημήτρης ρώτησε τους μαθητές της τάξης του τι έκαναν μετά το σχολείο.
Αυτά είναι τα αποτελέσματα για 3 δραστηριότητες που έκαναν.

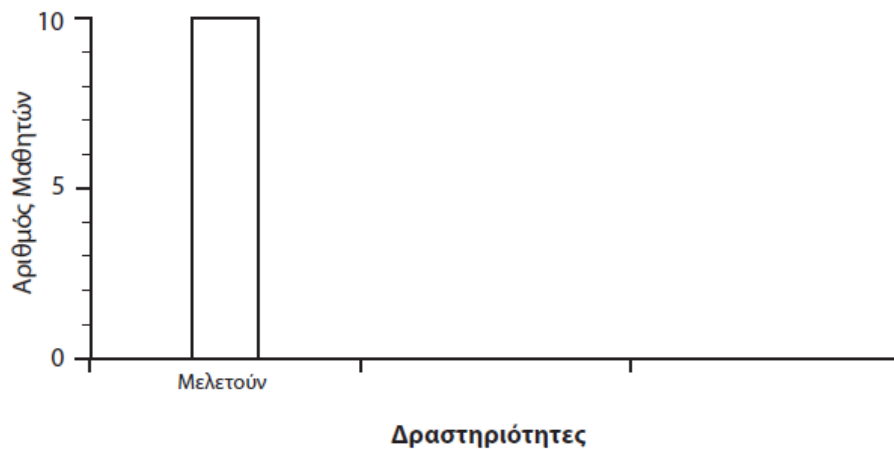
Δραστηριότητες Μετά το Σχολείο

Δραστηριότητες	Γραμμές
Κάνουν αθλήματα	
Παρακολουθούν τηλεόραση	
Μελετούν	

Ο κ. Δημήτρης ξεκίνησε να κάνει ένα ραβδόγραμμα για να δείξει πόσοι μαθητές κάνουν την κάθε δραστηριότητα.

Να συμπληρώσεις τη γραφική παράσταση, σχεδιάζοντας και ονομάζοντας τις άλλες δύο ράβδους.

Δραστηριότητες Μετά το Σχολείο



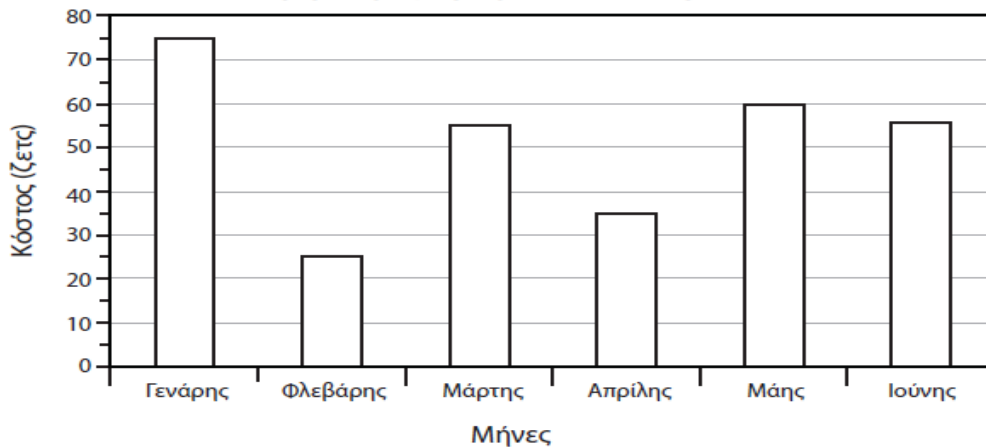
Τους πρώτους έξι μήνες του 2008 ο Μάρκος πλήρωσε τα πιο κάτω ποσά για τον λογαριασμό τηλεφώνου.

Λογαριασμός Τηλεφώνου του Μάρκου το 2008

Μήνας	Γενάρης	Φλεβάρης	Μάρτης	Απρίλης	Μάης	Ιούνης
Κόστος (ζετς)	65	20	60	40	60	45

Τους πρώτους έξι μήνες του 2009 ο Μάρκος πλήρωσε τα πιο κάτω ποσά για τον λογαριασμό τηλεφώνου.

Λογαριασμός Τηλεφώνου του Μάρκου το 2009



Για κάποιους μήνες, ο Μάρκος πλήρωσε λιγότερα για τον λογαριασμό τηλεφώνου του το 2009, σε σχέση με το 2008.

Για ποιους μήνες;

Απάντηση: _____